

Тренировочный вариант ОГЭ по математике №37**1. Задание**

Прочитайте внимательно текст и выполните задание.

Каждый водитель в Российской Федерации должен быть застрахован по программе обязательного страхования гражданской ответственности (ОСАГО). Стоимость полиса получается умножением базового тарифа на несколько коэффициентов. Коэффициенты зависят от водительского стажа, мощности автомобиля, количества предыдущих страховых выплат и других факторов.

Коэффициент бонус-малус (**КБМ**) зависит от класса водителя. Это коэффициент, понижающий или повышающий стоимость полиса в зависимости от количества ДТП в предыдущий год. Сначала водителю присваивается класс 3. Срок действия полиса, как правило, один год. Каждый последующий год класс водителя рассчитывается в зависимости от числа страховых выплат в течение истекшего года, в соответствии со следующей таблицей.

Класс на начало годового срока страхования	Коэффициент КБМ	Класс по окончании годового срока страхования с учётом наличия страховых случаев				
		0 страховых выплат	1 страховая выплата	2 страховых выплаты	3 страховых выплаты	4 страховых выплаты
М	2,45	0	М	М	М	М
0	2,3	1	М	М	М	М
1	1,55	2	М	М	М	М
2	1,4	3	1	М	М	М
3	1	4	1	М	М	М
4	0,95	5	2	1	М	М
5	0,9	6	3	1	М	М
6	0,85	7	4	2	М	М
7	0,8	8	4	2	М	М
8	0,75	9	5	2	М	М
9	0,7	10	5	2	1	М
10	0,65	11	6	3	1	М
11	0,6	12	6	3	1	М
12	0,55	13	6	3	1	М
13	0,5	13	7	3	1	М

Вячеслав страховал свою гражданскую ответственность два года. В течение первого года была сделана одна страховая выплата, после этого выплат не было.

Какой класс будет присвоен Вячеславу на начало третьего года страхования?

2. Задание

Прочитайте внимательно текст и выполните задание.

Каждый водитель в Российской Федерации должен быть застрахован по программе обязательного страхования гражданской ответственности (ОСАГО). Стоимость полиса получается умножением базового тарифа на несколько коэффициентов. Коэффициенты зависят от водительского стажа, мощности автомобиля, количества предыдущих страховых выплат и других факторов.

Коэффициент бонус-малус (**КБМ**) зависит от класса водителя. Это коэффициент, понижающий или повышающий стоимость полиса в зависимости от количества ДТП в предыдущий год. Сначала водителю присваивается класс 3. Срок действия полиса, как правило, один год. Каждый последующий год класс водителя рассчитывается в зависимости от числа страховых выплат в течение истекшего года, в соответствии со следующей таблицей.

Класс на начало годового срока страхования	Коэффициент КБМ	Класс по окончании годового срока страхования с учётом наличия страховых случаев				
		0 страховых выплат	1 страховая выплата	2 страховых выплаты	3 страховых выплаты	4 страховых выплаты
М	2,45	0	М	М	М	М
0	2,3	1	М	М	М	М
1	1,55	2	М	М	М	М
2	1,4	3	1	М	М	М
3	1	4	1	М	М	М
4	0,95	5	2	1	М	М
5	0,9	6	3	1	М	М
6	0,85	7	4	2	М	М
7	0,8	8	4	2	М	М
8	0,75	9	5	2	М	М
9	0,7	10	5	2	1	М
10	0,65	11	6	3	1	М
11	0,6	12	6	3	1	М
12	0,55	13	6	3	1	М
13	0,5	13	7	3	1	М

Чему равен КБМ на начало третьего года страхования?

3. Задание

Прочитайте внимательно текст и выполните задание.

Каждый водитель в Российской Федерации должен быть застрахован по программе обязательного страхования гражданской ответственности (ОСАГО). Стоимость полиса получается умножением базового тарифа на несколько коэффициентов. Коэффициенты зависят от водительского стажа, мощности автомобиля, количества предыдущих страховых выплат и других факторов.

Коэффициент бонус-малус (**КБМ**) зависит от класса водителя. Это коэффициент, понижающий или повышающий стоимость полиса в зависимости от количества ДТП в предыдущий год. Сначала водителю присваивается класс 3. Срок действия полиса, как правило, один год. Каждый последующий год класс водителя рассчитывается в зависимости от числа страховых выплат в течение истекшего года, в соответствии со следующей таблицей.

Класс на начало годового срока страхования	Коэффициент КБМ	Класс по окончании годового срока страхования с учётом наличия страховых случаев				
		0 страховых выплат	1 страховая выплата	2 страховых выплаты	3 страховых выплаты	4 страховых выплаты
М	2,45	0	М	М	М	М
0	2,3	1	М	М	М	М
1	1,55	2	М	М	М	М
2	1,4	3	1	М	М	М
3	1	4	1	М	М	М
4	0,95	5	2	1	М	М
5	0,9	6	3	1	М	М
6	0,85	7	4	2	М	М
7	0,8	8	4	2	М	М
8	0,75	9	5	2	М	М
9	0,7	10	5	2	1	М
10	0,65	11	6	3	1	М
11	0,6	12	6	3	1	М
12	0,55	13	6	3	1	М
13	0,5	13	7	3	1	М

Коэффициент возраста и водительского стажа (КВС) также влияет на стоимость полиса (см. таблицу).

Возраст, лет	Стаж 0 лет	Стаж 1 год	Стаж 2 года	Стаж 3–4 года	Стаж 5–6 лет	Стаж 7–9 лет	Стаж 10–14 лет	Стаж более 14 лет
16–21	1,87	1,87	1,87	1,66	1,66			
22–24	1,77	1,77	1,77	1,04	1,04	1,04		
25–29	1,77	1,69	1,63	1,04	1,04	1,04	1,01	
30–34	1,63	1,63	1,63	1,04	1,04	1,01	0,96	0,96
35–39	1,63	1,63	1,63	0,99	0,96	0,96	0,96	0,96
40–49	1,63	1,63	1,63	0,96	0,96	0,96	0,96	0,96
50–59	1,63	1,63	1,63	0,96	0,96	0,96	0,96	0,96
старше 59	1,60	1,60	1,60	0,93	0,93	0,93	0,93	0,93

Когда Вячеслав получил водительские права и впервые оформил полис, ему было 23 года.

Чему равен КВС на начало 3-го года страхования?

4. Задание

Прочитайте внимательно текст и выполните задание.

Каждый водитель в Российской Федерации должен быть застрахован по программе обязательного страхования гражданской ответственности (ОСАГО). Стоимость полиса получается умножением базового тарифа на несколько коэффициентов. Коэффициенты зависят от водительского стажа, мощности автомобиля, количества предыдущих страховых выплат и других факторов.

Коэффициент бонус-малус (КБМ) зависит от класса водителя. Это коэффициент, понижающий или повышающий стоимость полиса в зависимости от количества ДТП в предыдущий год. Сначала водителю присваивается класс 3. Срок действия полиса, как правило, один год. Каждый последующий год класс водителя рассчитывается в зависимости от числа страховых выплат в течение истекшего года, в соответствии со следующей таблицей.

Класс на начало годового срока страхования	Коэффициент КБМ	Класс по окончании годового срока страхования с учётом наличия страховых случаев				
		0 страховых выплат	1 страховая выплата	2 страховых выплаты	3 страховых выплаты	4 страховых выплаты
М	2,45	0	М	М	М	М
0	2,3	1	М	М	М	М
1	1,55	2	М	М	М	М
2	1,4	3	1	М	М	М
3	1	4	1	М	М	М
4	0,95	5	2	1	М	М
5	0,9	6	3	1	М	М
6	0,85	7	4	2	М	М
7	0,8	8	4	2	М	М
8	0,75	9	5	2	М	М
9	0,7	10	5	2	1	М
10	0,65	11	6	3	1	М
11	0,6	12	6	3	1	М
12	0,55	13	6	3	1	М
13	0,5	13	7	3	1	М

В начале второго года страхования Вячеслав заплатил за полис 27435 руб.

Во сколько рублей обойдётся Вячеславу полис на третий год, если значения других коэффициентов (кроме КБМ и КВС) не изменятся?

5. Задание

Прочитайте внимательно текст и выполните задание.

Каждый водитель в Российской Федерации должен быть застрахован по программе обязательного страхования гражданской ответственности (ОСАГО). Стоимость полиса получается умножением базового тарифа на несколько коэффициентов. Коэффициенты зависят от водительского стажа, мощности автомобиля, количества предыдущих страховых выплат и других факторов.

Коэффициент бонус-малус (КБМ) зависит от класса водителя. Это коэффициент, понижающий или повышающий стоимость полиса в зависимости от количества ДТП в предыдущий год. Сначала водителю присваивается класс 3. Срок действия полиса, как правило, один год. Каждый последующий год класс водителя рассчитывается в зависимости от числа страховых выплат в течение истекшего года, в соответствии со следующей таблицей.

Класс на начало годового срока страхования	Коэффициент КБМ	Класс по окончании годового срока страхования с учётом наличия страховых случаев				
		0 страховых выплат	1 страховая выплата	2 страховых выплаты	3 страховых выплаты	4 страховых выплаты
М	2,45	0	М	М	М	М
0	2,3	1	М	М	М	М
1	1,55	2	М	М	М	М
2	1,4	3	1	М	М	М
3	1	4	1	М	М	М
4	0,95	5	2	1	М	М
5	0,9	6	3	1	М	М
6	0,85	7	4	2	М	М
7	0,8	8	4	2	М	М
8	0,75	9	5	2	М	М
9	0,7	10	5	2	1	М
10	0,65	11	6	3	1	М
11	0,6	12	6	3	1	М
12	0,55	13	6	3	1	М
13	0,5	13	7	3	1	М

Вячеслав въехал на участок дороги протяжённостью 3,3 км с камерами, отслеживающими среднюю скорость движения. Ограничение скорости на дороге – 80 км/ч. В начале и в конце участка установлены камеры, фиксирующие номер автомобиля и время проезда. По этим данным компьютер вычисляет среднюю скорость на участке. Вячеслав въехал на участок в 10:05:08, а покинул его в 10:07:20.

Нарушил ли Вячеслав скоростной режим? Если да, на сколько км/ч средняя скорость на данном участке была выше разрешённой?

6. Задание

Найдите значение выражения $4,7 - 8,2$.

7. Задание

Какое из данных ниже чисел принадлежит отрезку $[4; 5]$?

- $\frac{58}{17}$
- $\frac{17}{72}$
- $\frac{17}{87}$
- $\frac{17}{91}$
- $\frac{17}{17}$

В ответе укажите номер выбранного варианта.

8. Задание

Найдите значение выражения $(\sqrt{5} - \sqrt{2})(\sqrt{5} + \sqrt{2})$.

9. Задание

Найдите корень уравнения $-5 + 9x = 10x + 4$.

10. Задание

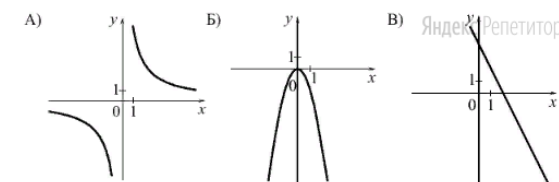
В магазине канцтоваров продаётся 145 ручек: 15 красных, 27 зелёных, 13 фиолетовых, остальные синие и чёрные, их поровну.

Найдите вероятность того, что случайно выбранная в этом магазине ручка будет фиолетовой или синей.

11. Задание

Установите соответствие между графиками функций и формулами, которые их задают.

ГРАФИКИ



ФОРМУЛЫ

- $y = \frac{6}{x}$
- $y = -2x + 4$
- $y = -2x^2$

Запишите в поле для ответа последовательность цифр, соответствующих буквам АБВ.

12. Задание

Выписано несколько последовательных членов геометрической прогрессии:

$\dots; 189; x; 21; 7; \dots$

Найдите x .

13. Задание

Найдите значение выражения $(x + 9) : \frac{x^2 + 18x + 81}{x - 9}$ при $x = 81$.

14. Задание

Мощность постоянного тока (в ваттах) вычисляется по формуле $P = I^2 R$, где I — сила тока (в амперах), R — сопротивление (в омах).


Пользуясь этой формулой, найдите сопротивление R , если мощность составляет 29,25 Вт, а сила тока равна 1,5 А.

Ответ дайте в омах.

15. Задание

Укажите решение неравенства

$$(x + 4)(x - 8) > 0.$$



В ответе укажите номер выбранного варианта.

16. Задание

В треугольнике два угла равны 28° и 93° .

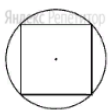


Найдите его третий угол.

Ответ дайте в градусах.

17. Задание

Радиус окружности, описанной около квадрата, равен $26\sqrt{2}$.



Найдите длину стороны этого квадрата.

18. Задание

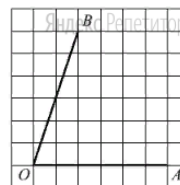
Периметр ромба равен 60, а один из углов равен 30° .



Найдите площадь этого ромба.

19. Задание

Найдите тангенс угла AOB , изображённого на рисунке.

**20. Задание**

Какое из следующих утверждений верно?

1. Отношение площадей подобных треугольников равно коэффициенту подобия.
2. Диагонали прямоугольника точкой пересечения делятся пополам.
3. Биссектриса треугольника делит пополам сторону, к которой она проведена.

В ответе запишите номер выбранного утверждения.

21. Задание

Решите уравнение $(x - 1)(x^2 + 6x + 9) = 5(x + 3)$.

22. Задание

Первую половину пути автомобиль проехал со скоростью 90 км/ч, а вторую — со скоростью 110 км/ч. Найдите среднюю скорость автомобиля на протяжении всего пути.

23. Задание

Постройте график функции.

$$y = x|x| - |x| - 5x.$$

Определите, при каких значениях m прямая $y = m$ имеет с графиком ровно две общие точки.

24. Задание

Углы B и C треугольника ABC равны соответственно 61° и 89° .

Найдите BC , если радиус окружности, описанной около треугольника ABC , равен 10.

25. Задание

В треугольнике ABC с тупым углом ABC проведены высоты AA_1 и CC_1 .

Докажите, что треугольники A_1BC_1 и ABC подобны.

26. Задание

В параллелограмме $ABCD$ проведена диагональ AC . Точка O является центром окружности, вписанной в треугольник ABC . Расстояния от точки O до точки A и прямых AD и AC соответственно равны 13, 7 и 5. Найдите площадь параллелограмма $ABCD$.